

الهندسة

مذكرة رقم 9 : ملخص لدروس: الحساب المثلثي I مع تمارين وأمثلة محلولة

الأهداف والقدرات المنتظرة من الدرس :

توجيهات تربوية	القدرات المنتظرة	محتوى البرنامج
- تحدد نقطة من الدائرة المثلثية بأفصولها المنحني الرئيسي أو بإحداثياتها بالنسبة للمعلم المتعامد الممنظم المرتبط بالدائرة المثلثية.	- استعمال الآلة الحاسبة العلمية لتحديد قيمة مقربة لزاوية محددة بأحد نسبها المثلثية والعكس. - التمكن من النسب المثلثية للزوايا الاعتيادية وتطبيق مختلف العلاقات	الجزء الأول: - الدائرة المثلثية، الأفاصل المنحنية لنقطة، الأفاصل المنحني الرئيسي؛ - الزاوية الموجهة لنصفي مستقيم لهما نفس الأصل؛ - قياسات زاوية موجهة لنصفي مستقيم لهما نفس الأصل، القياس الرئيسي، علاقة شال؛ - العلاقة بين الدرجة والراديان والغراد؛ - الزاوية الموجهة لمتجهتين وقياسها؛ - النسب المثلثية لعدد حقيقي والنسب المثلثية لزاوية متجهتين؛ - العلاقة: $\cos^2 x + \sin^2 x = 1$ ات: $\frac{1}{\cos^2 x} = 1 + \tan^2 x$ ، $\tan x = \frac{\sin x}{\cos x}$ - النسب المثلثية لزاوية قياسها: 0 ، $\frac{\pi}{6}$ ، $\frac{\pi}{4}$ ، $\frac{\pi}{3}$ ، $\frac{\pi}{2}$ ؛ - العلاقات بين النسب المثلثية لزاويتين مجموع أو فرق قياسيهما يساوي: 0 ، $\frac{\pi}{2}$ ، π ، بتريديد 2π .

(2) أ) حساب القياس بالراديان: $\frac{120}{180} = \frac{\gamma}{\pi}$ يعني $120 \times \pi = \gamma \times 180$

يعني $\gamma = \frac{120 \times \pi}{180} = \frac{12 \times \pi}{18} = \frac{2\pi}{3} \text{ rad}$

ب) حساب القياس بالغراد: $\frac{120}{180} = \frac{\beta}{200}$ يعني $120 \times 200 = \beta \times 180$

يعني $\beta = \frac{120 \times 200}{180} = 133,33 \text{ grad}$

3. الأفاصل المنحنية لنقطة والأفصول المنحني الرئيسي:

لتكن (C) دائرة مثلثية أصلها A ومركزها O، و M نقطة من (C).

ليكن α طول القوس الهندسية \widehat{IM} $0 \leq \alpha \leq 2\pi$

العدد α يسمى أفصول منحني للنقطة M. الأعداد الحقيقية $\alpha + 2k\pi$ حيث $k \in \mathbb{Z}$ هي أفاصيل منحنية للنقطة M. يوجد أفصول

منحني وحيد للنقطة M ينتمي إلى المجال $]-\pi, \pi]$ يسمى الأفصول

المنحني الرئيسي للنقطة M.

تمرين 2: أو مثال: مثل على الدائرة المثلثية للنقط التالية: $A(0)$ و

$B\left(\frac{\pi}{2}\right)$ و $C\left(\frac{\pi}{4}\right)$ و $D\left(\frac{\pi}{3}\right)$ و $E\left(\frac{\pi}{6}\right)$ و $F\left(\frac{5\pi}{6}\right)$

$G\left(-\frac{\pi}{2}\right)$ و $H\left(-\frac{\pi}{4}\right)$ و $M\left(\frac{7\pi}{2}\right)$ و $N\left(\frac{3\pi}{2}\right)$ و $I\left(\frac{2007\pi}{4}\right)$

أجوبة: $4\pi - \frac{\pi}{2} = \frac{8\pi - \pi}{2} = \frac{8\pi - \pi}{2} = \frac{7\pi}{2}$ وبما أن $-\pi < -\frac{\pi}{2} \leq \pi$

فان: $-\frac{\pi}{2}$ هو أفصول منحني رئيسي للنقطة M_0

الأفصول المنحني الرئيسي للنقطة $I\left(\frac{2007\pi}{4}\right)$

طريقة 1: نقسم العدد 2007 على 4 فنجد 501,75

ونأخذ أقرب عد صحيح له أي 502

$\frac{2007\pi}{4} - 502\pi = \frac{2007\pi}{4} - \frac{2008\pi}{4} = -\frac{\pi}{4}$

يعني $\frac{2007\pi}{4} = -\frac{\pi}{4} + 502\pi = -\frac{\pi}{4} + 2 \times 251\pi$

وبما أن: $-\pi < -\frac{\pi}{4} \leq \pi$ فان: $-\frac{\pi}{4}$ هو الأفصول المنحني الرئيسي

للنقطة I

طريقة 2: $-\pi < \frac{2007\pi}{4} + 2k\pi \leq \pi$ و $k \in \mathbb{Z}$ يعني $-1 < \frac{2007}{4} + 2k \leq 1$

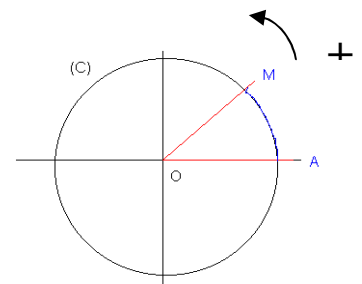
يعني $-1 - \frac{2007}{4} < 2k \leq 1 - \frac{2007}{4}$ يعني $-\frac{2003}{4} < 2k \leq -\frac{2011}{4}$

لتكن (C) دائرة من المستوى (P) مركزها O، و I و M نقطتين من (C). لدينا منحنيين للوصول إلى النقطة M انطلاقا من I. أحدهما موجب والآخر سالب.

لقد تم اختيار المنحني الموجب هو المنحني المضاد لحركة عقربي الساعة (المنحني + المشار إليه في الشكل) و يسمى المنحني المثلي.

1. الدائرة المثلثية:

الدائرة المثلثية هي كل دائرة شعاعها 1 مزودة بأصل و موجهة توجيهها موجبا.



2. تعريف الراديان :

دائرة مثلثية مركزها O

الراديان هو قياس الزاوية المركزية التي تحصر على الدائرة (C) قوسا طوله 1 ونرمز له بالرمز: rad ملاحظة: قياس زاوية مستقيمة بالدرجة 180° و الغراد 200 و بالراديان π

اذن وجدنا ثلاث وحدات لقياس الزوايا (الدرجة و الغراد و الراديان) ويمكن استعمال الطريقة الثلاثية للتحويل من وحدة الى أخرى أو استعمال النتيجة التالية: **نتيجة:** اذا كانت α و β و γ قياسات زاوية بالدرجة و

الغراد و الراديان على التوالي فان: $\frac{\alpha}{180^\circ} = \frac{\beta}{200} = \frac{\gamma}{\pi}$

تمرين 1:

1. لتكن زاوية قياسها بالدرجة 135° حدد قياسها بالراديان و حدد قياسها بالغراد

2. لتكن زاوية قياسها بالدرجة 120° حدد قياسها بالراديان و حدد قياسها بالغراد

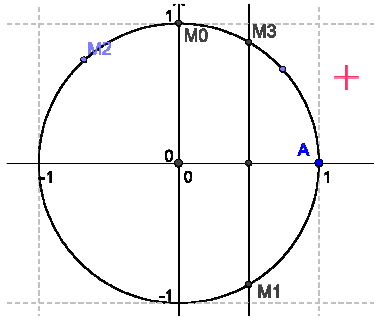
أجوبة: (1) أ) حساب القياس بالراديان: $\frac{135}{180} = \frac{\gamma}{\pi}$ يعني $135 \times \pi = \gamma \times 180$

يعني $\gamma = \frac{135 \times \pi}{180} = \frac{27 \times \pi}{36} = \frac{3\pi}{4} \text{ rad}$

ب) حساب القياس بالغراد: $\frac{135}{180} = \frac{\beta}{200}$ يعني $135 \times 200 = \beta \times 180$

يعني $\beta = \frac{135 \times 200}{180} = 150 \text{ grad}$

كان $\frac{\pi}{3}$ هو الأضلاع المنحني الرئيسي للنقطة M_3



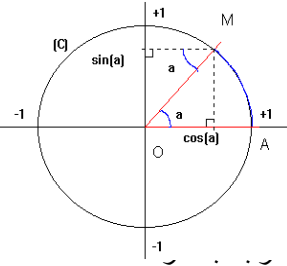
4. الزاوية الموجبة لنصفي مستقيم:

كل زوج $([OA], [OB])$ من نصفي مستقيم يحدد الزاوية الموجبة المرموز إليها ب: $(\widehat{OA, OB})$. أنظر الشكل.

ليكن α و β أضلاعين منحنيين للنقطتين A و B على التوالي. الأعداد الحقيقية $\beta - \alpha + 2k\pi$

حيث $k \in \mathbb{Z}$ هي قياسات للزاوية الموجبة $(\widehat{OA, OB})$ و نكتب: $(\widehat{OA, OB}) \equiv \beta - \alpha [2\pi]$

للزاوية الموجبة $(\widehat{OA, OB})$ قياس وحيد في المجال $]-\pi, \pi]$ يسمى القياس الرئيسي للزاوية.



5. النسب المثلثية لعدد حقيقي:

لتكن (C) دائرة مثلثية أصلها A ومركزها O وتكن B نقطة من (C)

حيث: $(\widehat{OA, OB}) \equiv \frac{\pi}{2} [2\pi]$

$(\widehat{OA, OM}) \equiv a [2\pi]$ هو المعلم المتعامد المنظم a . لتكن $M \in (C)$ حيث $(\widehat{OA, OM}) \equiv a [2\pi]$.

أضلاع النقطة M يسمى جيب تمام a ويكتب $\cos a$.

أرتوب النقطة M يسمى جيب a ويكتب $\sin a$.

إذا كان $a \neq \frac{\pi}{2} + k\pi$ حيث $k \in \mathbb{Z}$ أو AT أو $-AT$: ظل a ويكتب $\tan a$.

خصائص:

لكل x من \mathbb{R}	$-1 \leq \sin x \leq 1, -1 \leq \cos x \leq 1$
لكل x من \mathbb{R}	$\cos(x + 2k\pi) = \cos x$
لكل $k \in \mathbb{Z}$	$\sin(x + 2k\pi) = \sin x$
لكل x من $\mathbb{R} - \left\{ \frac{\pi}{2} + k\pi \right\}$	حيث $k \in \mathbb{Z}$ لدينا: $\tan x = \frac{\sin x}{\cos x}$
	$\tan(x + k\pi) = \tan x$

• إذا كانت $-\frac{\pi}{2} \leq x \leq \frac{\pi}{2}$ فإن $\cos x \geq 0$

• إذا كانت $\frac{\pi}{2} \leq x \leq \frac{3\pi}{2}$ فإن $\cos x \leq 0$

• إذا كانت $0 \leq x \leq \pi$ فإن $\sin x \geq 0$

• إذا كانت $\pi \leq x \leq 2\pi$ فإن $\sin x \leq 0$

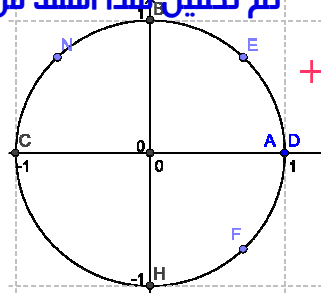
6. العلاقات بين النسب المثلثية لعدد:

• لكل x من \mathbb{R} $\cos^2 x + \sin^2 x = 1$

تمرين 4: بين أن: لكل x من $\mathbb{R} - \left\{ \frac{\pi}{2} + k\pi \right\}$ $1 + \tan^2 x = \frac{1}{\cos^2 x}$

الجواب: $1 + (\tan x)^2 = 1 + \left(\frac{\sin x}{\cos x} \right)^2 = 1 + \frac{(\sin x)^2}{(\cos x)^2} = \frac{(\cos x)^2 + (\sin x)^2}{(\cos x)^2}$

ونعلم أن: $\cos^2 x + \sin^2 x = 1$ إذن ①



يعني $-\frac{2003}{8} < k \leq \frac{2011}{8}$

يعني $-251,3 = -\frac{2011}{8} < k \leq \frac{2003}{8} = 250,3$

اذن: $k = -251$ ومنه

$$\alpha = \frac{2007\pi}{4} + 2(-251)\pi = -\frac{\pi}{4}$$

ومنه: $\frac{\pi}{4}$ هو الأضلاع المنحني الرئيسي للنقطة I

تمرين 3: حدد الأضلاع المنحني الرئيسي للنقط التالية ومثلهم على

الدائرة المثلثية: $M_0\left(\frac{9\pi}{2}\right)$ و $M_1\left(\frac{11\pi}{3}\right)$ و $M_2\left(\frac{67\pi}{4}\right)$ و $M_3\left(\frac{19\pi}{3}\right)$

أجوبة: (1) الأضلاع المنحني الرئيسي للنقطة M_0

طريقة 1: $\frac{9\pi}{2} = \frac{8\pi + \pi}{2} = \frac{8\pi}{2} + \frac{\pi}{2} = 4\pi + \frac{\pi}{2} = 2 \times 2\pi + \frac{\pi}{2}$ وبما أن: $-\pi < \frac{\pi}{2} \leq \pi$

فان: $\frac{\pi}{2}$ هو الأضلاع المنحني الرئيسي للنقطة M_0

طريقة 2: $-\pi < \frac{9\pi}{2} + 2k\pi \leq \pi$ يعني $k \in \mathbb{Z}$ و $-1 < \frac{9}{2} + 2k \leq 1$

يعني $-1 - \frac{9}{2} < -\frac{9}{2} + 2k \leq 1 - \frac{9}{2}$ يعني $-\frac{11}{2} < 2k \leq -\frac{7}{2}$

يعني $-\frac{11}{4} < k \leq -\frac{7}{4}$ يعني $-\frac{11}{4} \times \frac{1}{2} < 2k \times \frac{1}{2} \leq -\frac{7}{4} \times \frac{1}{2}$

يعني $-2,7 = -\frac{11}{4} < k \leq -\frac{7}{4} = -1,7$

اذن: $k = -2$ ومنه $\alpha = \frac{9\pi}{2} + 2(-2)\pi = \frac{9\pi}{2} - 4\pi = \frac{9\pi - 8\pi}{2} = \frac{\pi}{2}$

ومنه: $\frac{\pi}{2}$ هو الأضلاع المنحني الرئيسي للنقطة M_0

(2) الأضلاع المنحني الرئيسي للنقطة M_1

طريقة 1: $\frac{11\pi}{3} = \frac{10\pi + \pi}{3} = \frac{10\pi}{3} + \frac{\pi}{3} = 3\pi + \frac{\pi}{3} = 2 \times \frac{3\pi}{2} + \frac{\pi}{3}$ وبما أن:

$-\pi < \frac{\pi}{3} \leq \pi$ فان: $\frac{\pi}{3}$ هو الأضلاع المنحني الرئيسي للنقطة M_1

طريقة 2: $-\pi < \frac{11\pi}{3} + 2k\pi \leq \pi$ يعني $k \in \mathbb{Z}$ و $-1 < \frac{11}{3} + 2k \leq 1$

يعني $-1 - \frac{11}{3} < -\frac{11}{3} + 2k \leq 1 - \frac{11}{3}$ يعني $-\frac{14}{3} < 2k \leq -\frac{8}{3}$

يعني $-\frac{14}{6} < k \leq -\frac{8}{6}$ يعني $-\frac{7}{3} < k \leq -\frac{4}{3}$ يعني $-\frac{14}{3} \times \frac{1}{2} < 2k \times \frac{1}{2} \leq -\frac{8}{3} \times \frac{1}{2}$

اذن: $k = -2$ ومنه $\alpha = \frac{11\pi}{3} + 2(-2)\pi = \frac{11\pi}{3} - 4\pi = \frac{11\pi - 12\pi}{3} = -\frac{\pi}{3}$

ومنه: $-\frac{\pi}{3}$ هو الأضلاع المنحني الرئيسي للنقطة M_1

(3) الأضلاع المنحني الرئيسي للنقطة M_2

طريقة 1: $\frac{67\pi}{4} = \frac{64\pi + 3\pi}{4} = \frac{64\pi}{4} + \frac{3\pi}{4} = 16\pi + \frac{3\pi}{4} = 2 \times 8\pi + \frac{3\pi}{4}$ وبما أن:

$-\pi < \frac{3\pi}{4} \leq \pi$ فان: $\frac{3\pi}{4}$ هو الأضلاع المنحني الرئيسي للنقطة M_2

طريقة 2: $-\pi < \frac{67\pi}{4} + 2k\pi \leq \pi$ يعني $k \in \mathbb{Z}$ و $-1 < \frac{67}{4} + 2k \leq 1$

يعني $-1 - \frac{67}{4} < -\frac{67}{4} + 2k \leq 1 - \frac{67}{4}$ يعني $-\frac{71}{4} < 2k \leq -\frac{63}{4}$

يعني $-\frac{71}{8} < k \leq -\frac{63}{8}$ يعني $-\frac{71}{4} \times \frac{1}{2} < 2k \times \frac{1}{2} \leq -\frac{63}{4} \times \frac{1}{2}$

يعني $-8,8 = -\frac{71}{8} < k \leq -\frac{63}{8} = -7,8$

اذن: $k = -8$ ومنه $\alpha = \frac{67\pi}{4} + 2(-8)\pi = \frac{67\pi}{4} - 16\pi = \frac{67\pi - 64\pi}{4} = \frac{3\pi}{4}$

ومنه: $\frac{3\pi}{4}$ هو الأضلاع المنحني الرئيسي للنقطة M_2

الأضلاع المنحني الرئيسي للنقطة M_3

$\frac{19\pi}{3} = \frac{18\pi + \pi}{3} = \frac{18\pi}{3} + \frac{\pi}{3} = 6\pi + \frac{\pi}{3} = 2 \times 3\pi + \frac{\pi}{3}$

وبما أن: $-\pi < \frac{\pi}{3} \leq \pi$

$$1 + (\tan x)^2 = \frac{1}{(\cos x)^2}$$

وتكتب على شكل مبرهنة

تمرين 5: علما أن: $-\frac{\pi}{2} < x < \frac{\pi}{2}$ و $\sin x = -\frac{4}{5}$

أحسب $\tan x$ و $\cos x$

الجواب: (1) حساب $\cos x$

نعلم أن: $(\cos x)^2 + (\sin x)^2 = 1$ يعني $\cos^2 x + \sin^2 x = 1$

يعني $(\cos x)^2 + \frac{16}{25} = 1$ يعني $(\cos x)^2 = 1 - \frac{16}{25}$ يعني $(\cos x)^2 = \frac{9}{25}$

يعني $\cos x = \sqrt{\frac{9}{25}}$ أو $\cos x = -\sqrt{\frac{9}{25}}$ يعني $\cos x = \frac{3}{5}$ أو $\cos x = -\frac{3}{5}$

ونعلم أن: $-\frac{\pi}{2} < x < \frac{\pi}{2}$ يعني $\cos x \geq 0$ ومنه نأخذ: $\cos x = \frac{3}{5}$

(1) حساب $\tan x$ **لدينا:** $\tan x = \frac{\sin x}{\cos x}$

يعني $\tan x = \frac{\sin x}{\cos x} = \frac{-\frac{4}{5}}{\frac{3}{5}} = -\frac{4}{5} \times \frac{5}{3} = -\frac{4}{3}$

تمرين 6: علما أن: $\frac{\pi}{2} < x < \pi$ و $\tan x = \frac{1}{3}$ أحسب $\cos x$

(2) $\sin x$

الجواب: (1) نعلم أن: $1 + (\tan x)^2 = \frac{1}{(\cos x)^2}$

يعني أن: $1 + \left(\frac{1}{3}\right)^2 = \frac{1}{\cos^2 x}$ يعني $1 + \frac{1}{9} = \frac{1}{\cos^2 x}$

يعني $\frac{10}{9} = \frac{1}{\cos^2 x}$ يعني $10 \cos^2 x = 9$ يعني $\cos^2 x = \frac{9}{10}$

يعني $\cos x = \sqrt{\frac{9}{10}}$ أو $\cos x = -\sqrt{\frac{9}{10}}$

ونعلم أن: $\frac{\pi}{2} < x < \pi$ يعني $\cos x \leq 0$ ومنه نأخذ: $\cos x = -\sqrt{\frac{9}{10}}$

(2) نعلم أن: $\tan x = \frac{\sin x}{\cos x}$ يعني: $\sin x = \tan x \times \cos x$ يعني:

$\sin x = -\frac{1}{3} \times \frac{3\sqrt{10}}{10} = -\frac{\sqrt{10}}{10}$

ملخص للعلاقات بين النسب المثلثية

	$-x$	$\pi - x$	$\pi + x$	$\frac{\pi}{2} - x$	$\frac{\pi}{2} + x$
$\cos x$	$\cos x$	$-\cos x$	$-\cos x$	$\sin x$	$-\sin x$
$\sin x$	$-\sin x$	$\sin x$	$-\sin x$	$\cos x$	$\cos x$
$\tan x$	$-\tan x$	$-\tan x$	$\tan x$	$\frac{1}{\tan x}$	$-\frac{1}{\tan x}$

7. النسب المثلثية للقيم الاعتيادية:

تمرين 7: بسط و أحسب التعابير التالية :

$\cos \frac{10\pi}{3}$ و $\sin \frac{7\pi}{6}$ و $\cos \frac{7\pi}{6}$ و $\sin \frac{3\pi}{4}$ و $\cos \frac{3\pi}{4}$

$\tan \frac{37\pi}{4}$ و $\tan \frac{3\pi}{4}$ و $\cos \frac{34\pi}{3}$ و $\sin \frac{53\pi}{6}$ و $\cos \frac{13\pi}{6}$

أجوبة: $\cos \frac{3\pi}{4} = \cos \left(\frac{4\pi - \pi}{4}\right) = \cos \left(\frac{4\pi}{4} - \frac{\pi}{4}\right) = \cos \left(\pi - \frac{\pi}{4}\right) = -\cos \left(\frac{\pi}{4}\right) = -\frac{\sqrt{2}}{2}$

$\sin \frac{3\pi}{4} = \sin \left(\frac{4\pi - \pi}{4}\right) = \sin \left(\frac{4\pi}{4} - \frac{\pi}{4}\right) = \sin \left(\pi - \frac{\pi}{4}\right) = \sin \left(\frac{\pi}{4}\right) = \frac{\sqrt{2}}{2}$

$\cos \frac{7\pi}{6} = \cos \left(\frac{6\pi + \pi}{6}\right) = \cos \left(\frac{6\pi}{6} + \frac{\pi}{6}\right) = \cos \left(\pi + \frac{\pi}{6}\right) = -\cos \left(\frac{\pi}{6}\right) = -\frac{\sqrt{3}}{2}$

$\sin \frac{7\pi}{6} = \sin \left(\frac{6\pi + \pi}{6}\right) = \sin \left(\frac{6\pi}{6} + \frac{\pi}{6}\right) = \sin \left(\pi + \frac{\pi}{6}\right) = -\sin \left(\frac{\pi}{6}\right) = -\frac{1}{2}$

$\cos \frac{10\pi}{3} = \cos \left(\frac{9\pi + \pi}{3}\right) = \cos \left(\frac{9\pi}{3} + \frac{\pi}{3}\right) = \cos \left(3\pi + \frac{\pi}{3}\right) = \cos \left(2\pi + \pi + \frac{\pi}{3}\right)$

$$\cos \frac{10\pi}{3} = \cos \left(\pi + \frac{\pi}{3}\right) = -\cos \left(\frac{\pi}{3}\right) = -\frac{1}{2}$$

$$\cos \frac{13\pi}{6} = \cos \left(\frac{12\pi + \pi}{6}\right) = \cos \left(\frac{12\pi}{6} + \frac{\pi}{6}\right) = \cos \left(2\pi + \frac{\pi}{6}\right) = \cos \left(\frac{\pi}{6}\right) = \frac{\sqrt{3}}{2}$$

$$\sin \frac{53\pi}{6} = \sin \left(\frac{54\pi - \pi}{6}\right) = \sin \left(\frac{54\pi}{6} - \frac{\pi}{6}\right) = \sin \left(9\pi - \frac{\pi}{6}\right) = \sin \left(8\pi + \pi - \frac{\pi}{6}\right)$$

$$\sin \frac{53\pi}{6} = \sin \left(\pi - \frac{\pi}{6}\right) = \sin \left(\frac{\pi}{6}\right) = \frac{1}{2}$$

$$\cos \frac{34\pi}{3} = \cos \left(\frac{33\pi + \pi}{3}\right) = \cos \left(\frac{33\pi}{3} + \frac{\pi}{3}\right) = \cos \left(11\pi + \frac{\pi}{3}\right) = \cos \left(10\pi + \pi + \frac{\pi}{3}\right) = \frac{\sqrt{3}}{2}$$

$$\cos \frac{34\pi}{3} = \cos \left(\pi + \frac{\pi}{3}\right) = -\cos \left(\frac{\pi}{3}\right) = -\frac{1}{2}$$

$$\tan \frac{3\pi}{4} = \frac{\sin \left(\frac{3\pi}{4}\right)}{\cos \left(\frac{3\pi}{4}\right)} = \frac{\frac{\sqrt{2}}{2}}{-\frac{\sqrt{2}}{2}} = -1$$

$$\tan \frac{37\pi}{4} = \tan \left(\frac{36\pi + \pi}{4}\right) = \tan \left(\frac{36\pi}{4} + \frac{\pi}{4}\right) = \tan \left(9\pi + \frac{\pi}{4}\right) = \tan \left(\frac{\pi}{4}\right) = 1$$

تمرين 8: بسط التعابير التالية :

1. $A = \sin(\pi - x) \times \cos \left(\frac{\pi}{2} - x\right) - \sin \left(\frac{\pi}{2} - x\right) \times \cos(\pi - x)$

2. $B = \frac{\sin x + \sin(\pi - x)}{\cos(\pi - x)}$

3. $C = \cos \left(\frac{5\pi}{6}\right) + \sin \left(\frac{5\pi}{6}\right) - \tan \left(\frac{5\pi}{6}\right)$

4. $D = \sin(11\pi - x) + \cos(5\pi + x) + \cos(14\pi - x)$

5. $E = \tan(\pi - x) + \tan(\pi + x)$

6. $F = \cos^2 \left(\frac{\pi}{5}\right) + \sin^2 \left(\frac{3\pi}{10}\right)$

7. $G = \cos \left(\frac{\pi}{7}\right) + \cos \left(\frac{2\pi}{7}\right) + \cos \left(\frac{3\pi}{7}\right) + \cos \left(\frac{4\pi}{7}\right) + \cos \left(\frac{5\pi}{7}\right) + \cos \left(\frac{6\pi}{7}\right)$

8. $H = \sin^2 \left(\frac{\pi}{8}\right) + \sin^2 \left(\frac{3\pi}{8}\right) + \sin^2 \left(\frac{5\pi}{8}\right) + \sin^2 \left(\frac{7\pi}{8}\right)$

أجوبة: (1) $A = \sin(\pi - x) \times \cos \left(\frac{\pi}{2} - x\right) - \sin \left(\frac{\pi}{2} - x\right) \times \cos(\pi - x)$

$A = \sin(x) \times \sin(x) - \cos x \times (-\cos x) = \sin^2 x + \cos^2 x = 1$

(2) $B = \frac{\sin x + \sin(\pi - x)}{\cos(\pi - x)} = \frac{\sin x + \sin x}{-\cos x} = -\frac{2 \sin x}{\cos x} = -2 \tan x$

(3) $C = \cos \left(\frac{5\pi}{6}\right) + \sin \left(\frac{5\pi}{6}\right) - \tan \left(\frac{5\pi}{6}\right) = \cos \left(\frac{6\pi - \pi}{6}\right) + \sin \left(\frac{6\pi - \pi}{6}\right) - \tan \left(\frac{6\pi - \pi}{6}\right)$

$C = \cos \left(\pi - \frac{\pi}{6}\right) + \sin \left(\pi - \frac{\pi}{6}\right) - \tan \left(\pi - \frac{\pi}{6}\right) = -\cos \left(\frac{\pi}{6}\right) + \sin \left(\frac{\pi}{6}\right) + \tan \left(\frac{\pi}{6}\right)$

$C = -\frac{\sqrt{3}}{2} + \frac{1}{2} + \frac{\sin \left(\frac{\pi}{6}\right)}{\cos \left(\frac{\pi}{6}\right)} = -\frac{\sqrt{3}}{2} + \frac{1}{2} + \frac{1}{\frac{\sqrt{3}}{2}} = -\frac{\sqrt{3}}{2} + \frac{1}{2} + \frac{2}{\sqrt{3}} = -\frac{\sqrt{3}}{2} + \frac{1}{2} + \frac{2\sqrt{3}}{3} = \frac{3 - \sqrt{3} + 2\sqrt{3}}{6} = \frac{3 + \sqrt{3}}{6}$

	0	$\frac{\pi}{6}$	$\frac{\pi}{4}$	$\frac{\pi}{3}$	$\frac{\pi}{2}$
$\sin x$	0	$\frac{1}{2}$	$\frac{\sqrt{2}}{2}$	$\frac{\sqrt{3}}{2}$	1
$\cos x$	1	$\frac{\sqrt{3}}{2}$	$\frac{\sqrt{2}}{2}$	$\frac{1}{2}$	0

$C = \frac{3 - \sqrt{3}}{6}$

(4) $D = \sin(11\pi - x) + \cos(5\pi + x) + \cos(14\pi - x)$

$D = \sin(10\pi + \pi - x) + \cos(4\pi + \pi + x) + \cos(2 \times 7\pi - x)$

$D = \sin(\pi - x) + \cos(\pi + x) + \cos(-x)$

$D = \sin(x) - \cos(x) + \cos(x) = \sin(x)$

(5) $E = \tan(\pi - x) + \tan(\pi + x) = -\tan(x) + \tan(x) = 0$

(6) $F = \cos^2 \left(\frac{\pi}{5}\right) + \sin^2 \left(\frac{3\pi}{10}\right)$

$$B = 2 \left(\cos^2 \frac{\pi}{8} + \cos^2 \frac{3\pi}{8} \right)$$

$$\frac{3\pi}{8} = \frac{\pi}{2} - \frac{\pi}{8} \text{ : يعني } \frac{\pi}{8} + \frac{3\pi}{8} = \frac{\pi}{2}$$

$$B = 2 \left(\cos^2 \frac{\pi}{8} + \cos^2 \left(\frac{\pi}{2} - \frac{\pi}{8} \right) \right) = 2 \left(\cos^2 \frac{\pi}{8} + \sin^2 \left(\frac{\pi}{8} \right) \right) = 2 \times 1 = 2 \text{ : ومنه}$$

$$C = \sin^2 \frac{\pi}{12} + \sin^2 \frac{3\pi}{12} + \sin^2 \frac{5\pi}{12} + \sin^2 \frac{7\pi}{12} + \sin^2 \frac{9\pi}{12} + \sin^2 \frac{11\pi}{12} \quad (3)$$

$$\frac{11\pi}{12} = \pi - \frac{\pi}{12} \text{ : يعني } \frac{\pi}{12} + \frac{11\pi}{12} = \pi$$

$$\text{و أن: } \frac{9\pi}{12} = \pi - \frac{3\pi}{12} \text{ : يعني } \frac{3\pi}{12} + \frac{9\pi}{12} = \pi$$

$$\text{و أن: } \frac{7\pi}{12} = \pi - \frac{5\pi}{12} \text{ : يعني } \frac{5\pi}{12} + \frac{7\pi}{12} = \pi$$

$$C = \sin^2 \frac{\pi}{12} + \sin^2 \frac{3\pi}{12} + \sin^2 \frac{5\pi}{12} + \sin^2 \left(\pi - \frac{5\pi}{12} \right) + \sin^2 \left(\pi - \frac{3\pi}{12} \right) + \sin^2 \left(\pi - \frac{\pi}{12} \right)$$

$$C = \sin^2 \frac{\pi}{12} + \sin^2 \frac{3\pi}{12} + \sin^2 \frac{5\pi}{12} + \sin^2 \left(\frac{5\pi}{12} \right) + \sin^2 \left(\frac{3\pi}{12} \right) + \sin^2 \left(\frac{\pi}{12} \right)$$

$$C = 2\sin^2 \frac{\pi}{12} + 2\sin^2 \frac{3\pi}{12} + 2\sin^2 \frac{5\pi}{12} = 2\sin^2 \frac{\pi}{12} + 2\sin^2 \frac{5\pi}{12} + 2\sin^2 \frac{\pi}{4}$$

$$C = 2\sin^2 \frac{\pi}{12} + 2\sin^2 \frac{3\pi}{12} + 2\sin^2 \frac{5\pi}{12} = 2 \left(\sin^2 \frac{\pi}{12} + \sin^2 \frac{5\pi}{12} \right) + 2 \left(\frac{\sqrt{2}}{2} \right)^2$$

$$\frac{5\pi}{12} = \frac{\pi}{2} - \frac{\pi}{12} \text{ : يعني } \frac{\pi}{12} + \frac{5\pi}{12} = \frac{\pi}{2}$$

$$C = 2 \left(\sin^2 \frac{\pi}{12} + \sin^2 \left(\frac{\pi}{2} - \frac{\pi}{12} \right) \right) + 1 = 2 \left(\sin^2 \frac{\pi}{12} + \cos^2 \left(\frac{\pi}{12} \right) \right) + 1 = 2 \times 1 + 1 = 3 \text{ : ومنه}$$

تمرين 10: أحسب وبسط

$$A = \sin(\pi+x) - \cos(\pi-x) - \sin\left(\frac{\pi}{2}-x\right) - \cos\left(\frac{\pi}{2}+x\right)$$

$$B = \sin(6\pi+x) - \cos(3\pi-x) + \sin\left(-\frac{\pi}{2}-x\right) - \cos\left(\frac{3\pi}{2}+x\right)$$

$$C = \sin(x-7\pi) - \cos\left(\frac{5\pi}{2}+x\right) + \sin(x+11\pi) + \cos\left(\frac{-3\pi}{2}-x\right)$$

$$A = \sin(\pi+x) - \cos(\pi-x) - \sin\left(\frac{\pi}{2}-x\right) - \cos\left(\frac{\pi}{2}+x\right) = \sin x + \cos x - \cos x + \sin x = 0 \text{ : أجبوبة}$$

$$B = \sin(6\pi+x) - \cos(3\pi-x) + \sin\left(\frac{\pi}{2}-x\right) - \cos\left(\frac{3\pi}{2}+x\right)$$

$$B = \sin(2 \times 3\pi+x) - \cos(2\pi+\pi-x) + \sin\left(-\left(\frac{\pi}{2}+x\right)\right) - \cos\left(\frac{4\pi-\pi}{2}+x\right)$$

$$B = \sin(x) + \cos(x) - \cos(x) - \cos\left(2\pi - \frac{\pi}{2} + x\right) = \sin(x) - \cos\left(-\left(\frac{\pi}{2}-x\right)\right)$$

$$B = \sin(x) - \cos\left(\frac{\pi}{2}-x\right) = \sin(x) - \sin(x) = 0$$

$$C = \sin(x-7\pi) - \cos\left(\frac{5\pi}{2}+x\right) + \sin(x+11\pi) + \cos\left(\frac{-3\pi}{2}-x\right)$$

$$C = \sin(x-\pi-6\pi) - \cos\left(\frac{4\pi+\pi}{2}+x\right) + \sin(x+1\pi+10\pi) + \cos\left(\frac{-4\pi+\pi}{2}-x\right)$$

$$C = \sin(x-\pi) - \cos\left(\frac{\pi}{2}+x\right) + \sin(x+\pi) + \cos\left(\frac{\pi}{2}-x\right)$$

$$C = \sin(-(\pi-x)) - \cos\left(\frac{\pi}{2}+x\right) + \sin(x+\pi) + \sin x$$

$$C = -\sin(\pi-x) - \cos\left(\frac{\pi}{2}+x\right) + \sin(x+\pi) + \sin x$$

$$C = -\sin(x) + \sin(x) - \sin(x) + \sin(x) = 0$$

تمرين 11: بين أن :

$$(\cos x + \sin x)^2 + (\cos x - \sin x)^2 = 2 \quad .1$$

$$\cos^4 x - \cos^2 x + \sin^2 x - \sin^4 x = 0 \quad .2$$

$$\cos^4 x + \sin^4 x = 1 - 2\cos^2 x \times \sin^2 x \quad .3$$

$$\cos^4 x - \sin^4 x + 2 \times \sin^2 x = 1 \quad .4$$

$$\cos^6 x + \sin^6 x + 3\cos^2 x \times \sin^2 x = 1 \quad .5$$

$$\text{نلاحظ أن: } \frac{\pi}{5} + \frac{3\pi}{10} = \frac{2\pi}{10} + \frac{3\pi}{10} = \frac{5\pi}{10} = \frac{\pi}{2}$$

$$\frac{3\pi}{10} = \frac{\pi}{2} - \frac{\pi}{5} \text{ يعني } \frac{\pi}{5} + \frac{3\pi}{10} = \frac{\pi}{2}$$

$$F = \cos^2\left(\frac{\pi}{5}\right) + \sin^2\left(\frac{\pi}{2} - \frac{\pi}{5}\right) = \cos^2\left(\frac{\pi}{5}\right) + \cos^2\left(\frac{\pi}{5}\right) = 1 \text{ : ومنه}$$

$$G = \cos\left(\frac{\pi}{7}\right) + \cos\left(\frac{2\pi}{7}\right) + \cos\left(\frac{3\pi}{7}\right) + \cos\left(\frac{4\pi}{7}\right) + \cos\left(\frac{5\pi}{7}\right) + \cos\left(\frac{6\pi}{7}\right) \quad (7)$$

$$\frac{\pi}{7} = \pi - \frac{6\pi}{7} \text{ : يعني } \frac{\pi}{7} + \frac{6\pi}{7} = \pi$$

$$\text{و أن: } \frac{5\pi}{7} = \pi - \frac{2\pi}{7} \text{ : يعني } \frac{2\pi}{7} + \frac{5\pi}{7} = \pi$$

$$\text{و أن: } \frac{4\pi}{7} = \pi - \frac{3\pi}{7} \text{ : يعني } \frac{3\pi}{7} + \frac{4\pi}{7} = \pi$$

$$G = \cos\left(\frac{\pi}{7}\right) + \cos\left(\frac{2\pi}{7}\right) + \cos\left(\frac{3\pi}{7}\right) + \cos\left(\pi - \frac{3\pi}{7}\right) + \cos\left(\pi - \frac{2\pi}{7}\right) + \cos\left(\pi - \frac{\pi}{7}\right)$$

$$G = \cos\left(\frac{\pi}{7}\right) + \cos\left(\frac{2\pi}{7}\right) + \cos\left(\frac{3\pi}{7}\right) - \cos\left(\frac{3\pi}{7}\right) - \cos\left(\frac{2\pi}{7}\right) - \cos\left(\frac{\pi}{7}\right) = 0 \text{ : يعني}$$

$$H = \sin^2\left(\frac{\pi}{8}\right) + \sin^2\left(\frac{3\pi}{8}\right) + \sin^2\left(\frac{5\pi}{8}\right) + \sin^2\left(\frac{7\pi}{8}\right) \quad (8)$$

$$\frac{7\pi}{8} = \pi - \frac{\pi}{8} \text{ : يعني } \frac{\pi}{8} + \frac{7\pi}{8} = \pi$$

$$\text{و أن: } \frac{5\pi}{8} = \pi - \frac{3\pi}{8} \text{ : يعني } \frac{3\pi}{8} + \frac{5\pi}{8} = \pi$$

$$H = \sin^2\left(\frac{\pi}{8}\right) + \sin^2\left(\frac{3\pi}{8}\right) + \sin^2\left(\pi - \frac{3\pi}{8}\right) + \sin^2\left(\pi - \frac{\pi}{8}\right)$$

$$H = \sin^2\left(\frac{\pi}{8}\right) + \sin^2\left(\frac{3\pi}{8}\right) + \sin^2\left(\frac{\pi}{8}\right) + \sin^2\left(\frac{3\pi}{8}\right) = 2\sin^2\left(\frac{\pi}{8}\right) + 2\sin^2\left(\frac{3\pi}{8}\right) \text{ : يعني}$$

$$\frac{3\pi}{8} = \pi - \frac{\pi}{8} \text{ : يعني } \frac{\pi}{8} + \frac{3\pi}{8} = \frac{\pi}{2}$$

$$H = 2\sin^2\left(\frac{\pi}{8}\right) + 2\sin^2\left(\frac{\pi}{2} - \frac{\pi}{8}\right) \text{ : ومنه}$$

$$H = 2\sin^2\left(\frac{\pi}{8}\right) + 2\cos^2\left(\frac{\pi}{8}\right) = 2 \left(\sin^2\left(\frac{\pi}{8}\right) + \cos^2\left(\frac{\pi}{8}\right) \right) = 2 \times 1 = 2 \text{ : يعني}$$

تمرين 9: بسط التعابير التالية :

$$A = \cos \frac{\pi}{5} + \sin \frac{\pi}{5} + \cos \frac{4\pi}{5} - 2\sin \frac{4\pi}{5} + \cos \frac{3\pi}{10} \quad (1)$$

$$B = \cos^2 \frac{\pi}{8} + \cos^2 \frac{3\pi}{8} + \cos^2 \frac{7\pi}{8} + \cos^2 \frac{5\pi}{8} \quad (2)$$

$$C = \sin^2 \frac{\pi}{12} + \sin^2 \frac{3\pi}{12} + \sin^2 \frac{5\pi}{12} + \sin^2 \frac{7\pi}{12} + \sin^2 \frac{9\pi}{12} + \sin^2 \frac{11\pi}{12} \quad (3)$$

الأجوبة :

$$A = \cos \frac{\pi}{5} + \sin \frac{\pi}{5} + \cos \frac{4\pi}{5} - 2\sin \frac{4\pi}{5} + \cos \frac{3\pi}{10} \quad (1)$$

$$\frac{3\pi}{10} = \frac{\pi}{2} - \frac{\pi}{5} \text{ : يعني } \frac{\pi}{5} + \frac{3\pi}{10} = \frac{\pi}{2}$$

$$\frac{4\pi}{5} = \pi - \frac{\pi}{5} \text{ : يعني } \frac{\pi}{5} + \frac{4\pi}{5} = \pi$$

$$A = \cos \frac{\pi}{5} + \sin \frac{\pi}{5} + \cos\left(\pi - \frac{\pi}{5}\right) - 2\sin\left(\pi - \frac{\pi}{5}\right) + \cos\left(\frac{\pi}{2} - \frac{\pi}{5}\right)$$

$$A = \cos \frac{\pi}{5} + \sin \frac{\pi}{5} - \cos\left(\frac{\pi}{5}\right) - 2\sin\left(\frac{\pi}{5}\right) + \sin\left(\frac{\pi}{5}\right) = 0$$

$$B = \cos^2 \frac{\pi}{8} + \cos^2 \frac{3\pi}{8} + \cos^2 \frac{5\pi}{8} + \cos^2 \frac{7\pi}{8} \quad (2)$$

$$\frac{7\pi}{8} = \pi - \frac{\pi}{8} \text{ : يعني } \frac{\pi}{8} + \frac{7\pi}{8} = \pi$$

$$\text{و أن: } \frac{5\pi}{8} = \pi - \frac{3\pi}{8} \text{ : يعني } \frac{3\pi}{8} + \frac{5\pi}{8} = \pi$$

$$B = \cos^2 \frac{\pi}{8} + \cos^2 \frac{3\pi}{8} + \cos^2\left(\pi - \frac{3\pi}{8}\right) + \cos^2\left(\pi - \frac{\pi}{8}\right) \text{ : ومنه}$$

$$B = \cos^2 \frac{\pi}{8} + \cos^2 \frac{3\pi}{8} + \left(-\cos \frac{3\pi}{8}\right)^2 + \left(-\cos \frac{\pi}{8}\right)^2 \text{ : يعني}$$

$$B = \cos^2 \frac{\pi}{8} + \cos^2 \frac{3\pi}{8} + \cos^2 \frac{3\pi}{8} + \cos^2 \frac{\pi}{8} = 2\cos^2 \frac{\pi}{8} + 2\cos^2 \frac{3\pi}{8}$$

$$(\cos x + \sin x)^2 + (\cos x - \sin x)^2 = (1) \text{ أجوبة}$$

$$= \cos^2 x + 2\cos x \times \sin x + \sin^2 x + \cos^2 x - 2\cos x \times \sin x + \sin^2 x$$

$$= 2\cos^2 x + 2\sin^2 x = 2(\cos^2 x + \sin^2 x) = 2 \times 1 = 2$$

$$\cos^4 x - \cos^2 x + \sin^2 x - \sin^4 x = (\cos^2 x)^2 - (\sin^2 x)^2 - \cos^2 x + \sin^2 x \quad (2)$$

$$= (\cos^2 x - \sin^2 x)(\cos^2 x + \sin^2 x) - \cos^2 x + \sin^2 x$$

$$= (\cos^2 x - \sin^2 x) \times 1 - \cos^2 x + \sin^2 x = \cos^2 x - \sin^2 x - \cos^2 x + \sin^2 x = 0$$

$$\cos^4 x + \sin^4 x = 1 - 2\cos^2 x \times \sin^2 x \quad (3)$$

$$(\cos^2 x + \sin^2 x)^2 = (\cos^2 x)^2 + 2\cos^2 x \times \sin^2 x + (\sin^2 x)^2 \text{ نعلم أن}$$

$$(\cos^2 x + \sin^2 x)^2 = \cos^4 x + \sin^4 x + 2\cos^2 x \times \sin^2 x \text{ يعني}$$

$$(1)^2 = \cos^4 x + \sin^4 x + 2\cos^2 x \times \sin^2 x \text{ يعني}$$

$$1 - 2\cos^2 x \times \sin^2 x = \cos^4 x + \sin^4 x \text{ يعني}$$

$$\cos^4 x - \sin^4 x + 2 \times \sin^2 x = 1 \quad (4)$$

$$\cos^4 x - \sin^4 x + 2 \times \sin^2 x = (\cos^2 x)^2 - (\sin^2 x)^2 + 2 \times \sin^2 x$$

$$= (\cos^2 x - \sin^2 x)(\cos^2 x + \sin^2 x) + 2 \times \sin^2 x$$

$$= \cos^2 x - \sin^2 x + 2 \times \sin^2 x = \cos^2 x + \sin^2 x = 1$$

$$(5) \text{ نعلم أن } (\cos^2 x + \sin^2 x)^3 = \cos^6 x + 3\cos^4 x + 3\cos^2 x \times \sin^4 x + \sin^6 x$$

$$1 = \cos^6 x + \sin^6 x + 3\sin^2 x \cos^4 x + 3\cos^2 x \times \sin^4 x \text{ يعني}$$

$$1 = \cos^6 x + \sin^6 x + 3\sin^2 x \cos^2 x (\sin^2 x + \cos^2 x) \text{ يعني}$$

$$\cos^6 x + \sin^6 x + 3\sin^2 x \cos^2 x = 1 \text{ يعني}$$



« c'est en forgeant que l'on devient forgeron » dit un proverbe.

c'est en s'entraînant régulièrement aux calculs et exercices que l'on devient un mathématicien